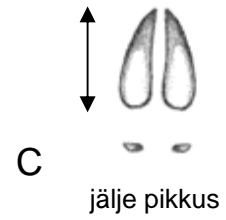
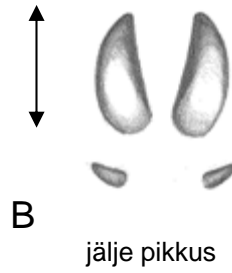
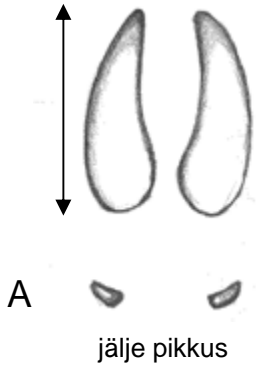


TÖÖLEHT


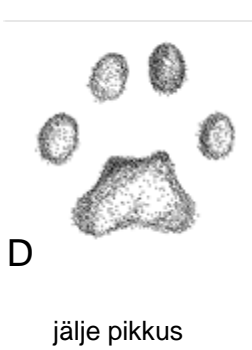
1. Kelle jäljed need on ja mille poolest erinevad? Märkige jälje pikkus.



D



C



2. Jalajäljes võib näha erinevat arvu varbajälgi
Kirjutage mitme varba jälge on järgmiste loomade jalajälgedes


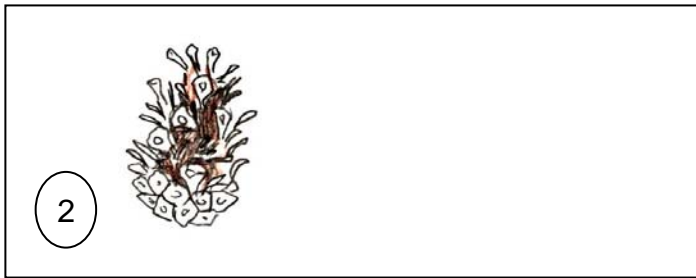
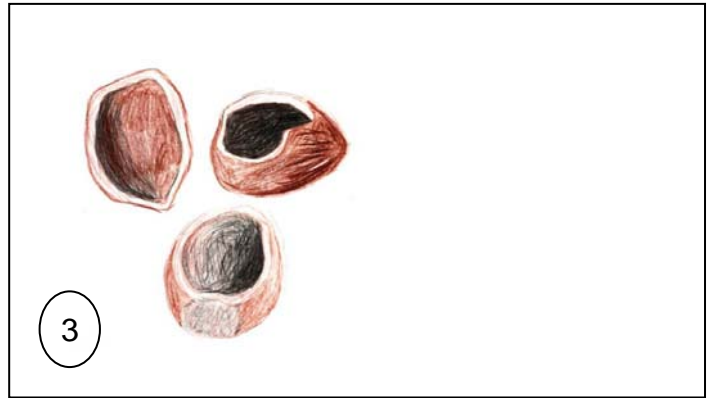

Metskits Põder Hunt Ilves Karu Koer

Kärp Kobras Metssiga Metsnugis Saarmas



Koostas: Aivo Tamm 2011
Joonised: Veljo Runnel

3. Kes on käbi või pähklit toksinud või närinud? Kirjeldage looma toitumist.



4. Kuidas saaks eristada põdra ja metskitse hammustuse jälgi okstel?



5. Milline on jänese hammustuse jälg oksal?

Mille poolest erineb see põdra ja metskitse hammustuse jälgedest? Joonista pilt.



6. Kelle hambajälgi puukoorel on allpool kirjeldatud?

Hambajälje laius enamuses väiksem kui 1 mm. Näritud on kuni puidu pealmise kihini.

Hambajälje laius enamuses 1-2 mm. Näritud on ka puidu pealmist kihti.

Hambajälje laius enamuses rohkem kui 3 mm. Oksad on juppideks näritud.



Koostas: Aivo Tamm 2011
Joonised: Veljo Runnel