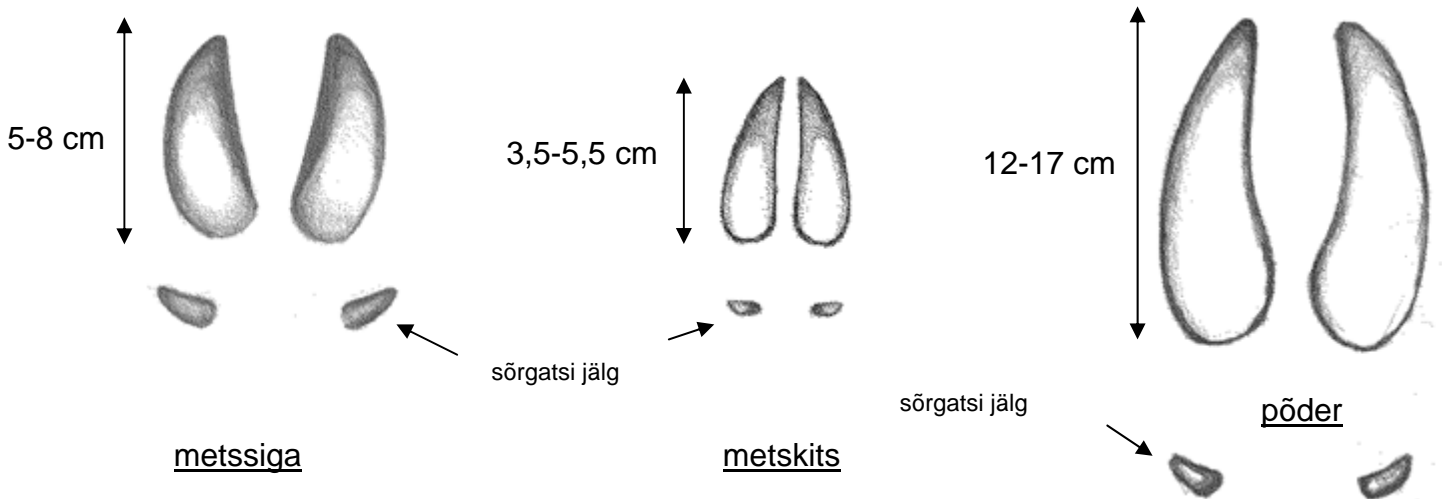
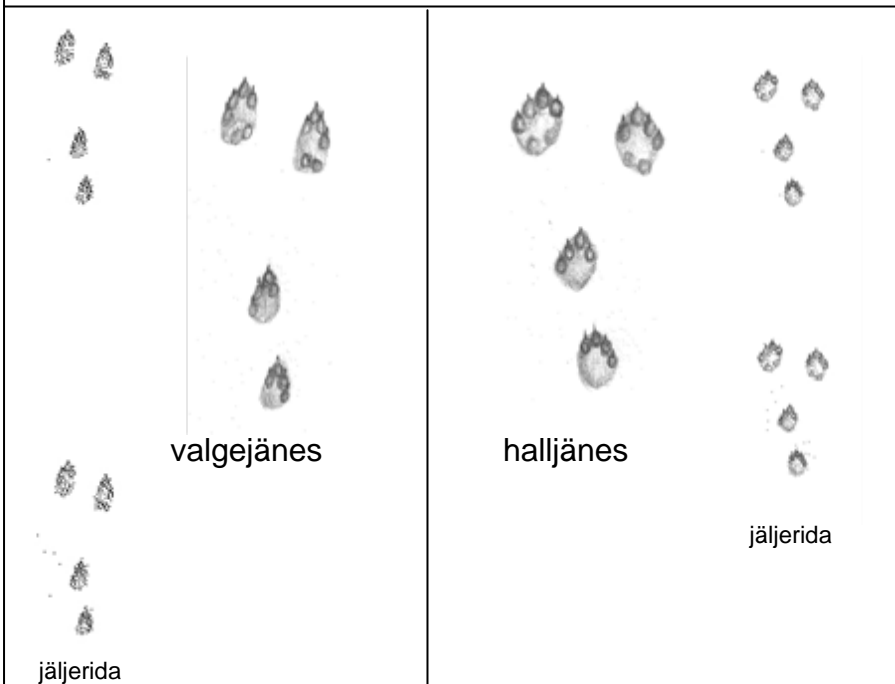


IMETAJAD VÄLITÖÖLEHT NOOREMAD

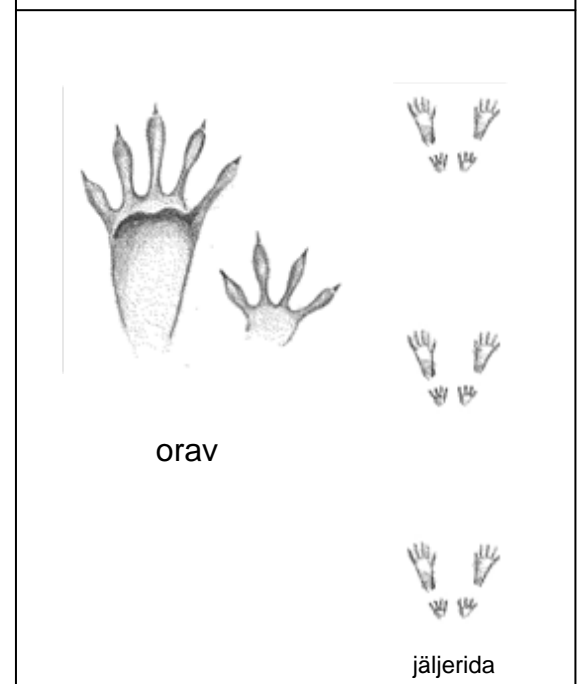
1. Võrdle metssea, metskitse ja põdra jalajälge. Kelle jälg on kõige suurem ja kõige väiksem? Kirjelda, kuidas paiknevad sõrgatsid metssea jäljes.



3. Võrdle valgejänese ja halljänese jälgi. Kelle jalajäljed on kitsamad, kelle hüpped pikemad?



4. Mille poolest erinevad orava jäljed jäneste jälgedest?



5. Mitu varbajälge on näha allpool loetletud loomade jälgedel? Kasuta piltidega jäljemäärajat.

Metskits Põder Hunt Ilves Karu Koer
 Kärp Kobras Metssiga Metsnugis Saarmas

6. Kuidas eristada jälgi? Kasuta piltidega jäljemäärajat.

hunt ja ilves

põder ja metssiga

rebane ja kährik

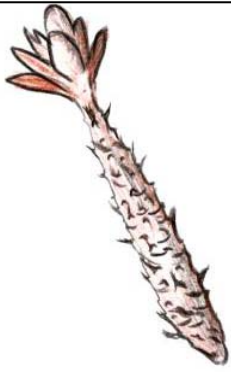
põder ja metskits

metsnugis ja kärp



Koostas: Aivo Tamm 2011
 Joonised: Veljo Runnel

7. Mida söödavat loomad käbidest ja pähklitest saavad?
Mille järgi saab teada, et söönud on orav, rähn või hiir?



orava näritud käbi



orava katki hammustatud pähkel



rähni toksitud käbi



hiire näritud pähkel

8. Võrdle valgejänese, metskitse ja põdra väljaheiteid. Võrdle suurust, kuju ja värvi.



valgejänese

läbimõõt 1,5-2 cm



metskits

pikkus 1-1,4 cm



põder

pikkus 2-3 cm



TARTU ÜLIKOOL
LOODUSMUSEUM

Koostas: Aivo Tamm 2011
Joonised: Veljo Runnel